

10-11 класс

72 балла

Максимальное время: 90 минут
Максимальный балл: 100 баллов

1. Укажите пропущенную в приведённом ряду фамилию, отметив V.

Витте С.Ю., Горемыкин И.Л., ..., Коковцов В.Н.

- Булыгин А.Г.
- Столыпин П.А. ✓
- Трепов Д.Ф.
- Шмидт П.П.

Председатели Совета министров Российской империи в 1905 – 1914 гг.: С.Ю.Витте (октябрь 1905 – апрель 1906 гг.), И.Л. Горемыкин (апрель – июль 1906 г.), П.А. Столыпин (июль 1906 – сентябрь 1911 гг.), В.Н. Коковцов (сентябрь 1911 – январь 1914 гг.).

Максимум за задание - 1 балл.

Выберите правильный вариант ответа и обведите его кружком. Каждый правильный ответ 1 балл.

18. 19.

2. Какой из городов Кемеровской области не был основан в XIX – XX вв.?

- а) Мариинск
- б) Новокузнецк
- в) Гурьевск
- г) Прокопьевск

3. Кто является автором произведений: «Повесть о Михайле Волкове», «Горный рекрут», «Серебряный рудник»?

- а) В. Рехлов
- б) В. Мазаев
- в) А. Волошин
- г) В. Федоров

Выберите три правильных ответа, из предложенных Вам, и обведите их кружком.

Полностью правильный ответ оценивается в 2 балла.

4. Укажите названия храмов, построенных ДО Батыева нашествия

- А) Георгиевский собор (г. Юрьев-Польский)
- Б) Церковь Покрова на Нерли
- В) Успенский собор во Владимире-на-Клязьме
- Г) Успенский собор Московского Кремля
- Д) Церковь Троицы Живоначальной в Никитниках
- Е) Церковь Вознесения в Коломенском

5. Какие из перечисленных государств участвовали в подписании международного договора, фрагмент из которого приведён?

«Россия незамедлительно произведёт полную демобилизацию своей армии, включая и войсковые части, вновь сформированные теперешним правительством. Кроме того, свои военные суда Россия

| | |
|---------------------|-----------------------------------|
| Б) О. И. Бове | 2) Исаакиевский собор |
| В) А. Н. Померанцев | 3) Большой Кремлёвский дворец |
| Г) О. Монферран | 4) Большой театр в Москве |
| Д) В. О. Шервуд | 5) Михайловский замок |
| Е) К. А. Тон | 6) особняк С. П. Рябушинского |
| | 7) Верхние торговые ряды в Москве |

Ответ:

| А | Б | В | Г | Д | Е |
|---|---|---|---|---|---|
| 6 | 4 | 7 | 2 | 1 | 3 |

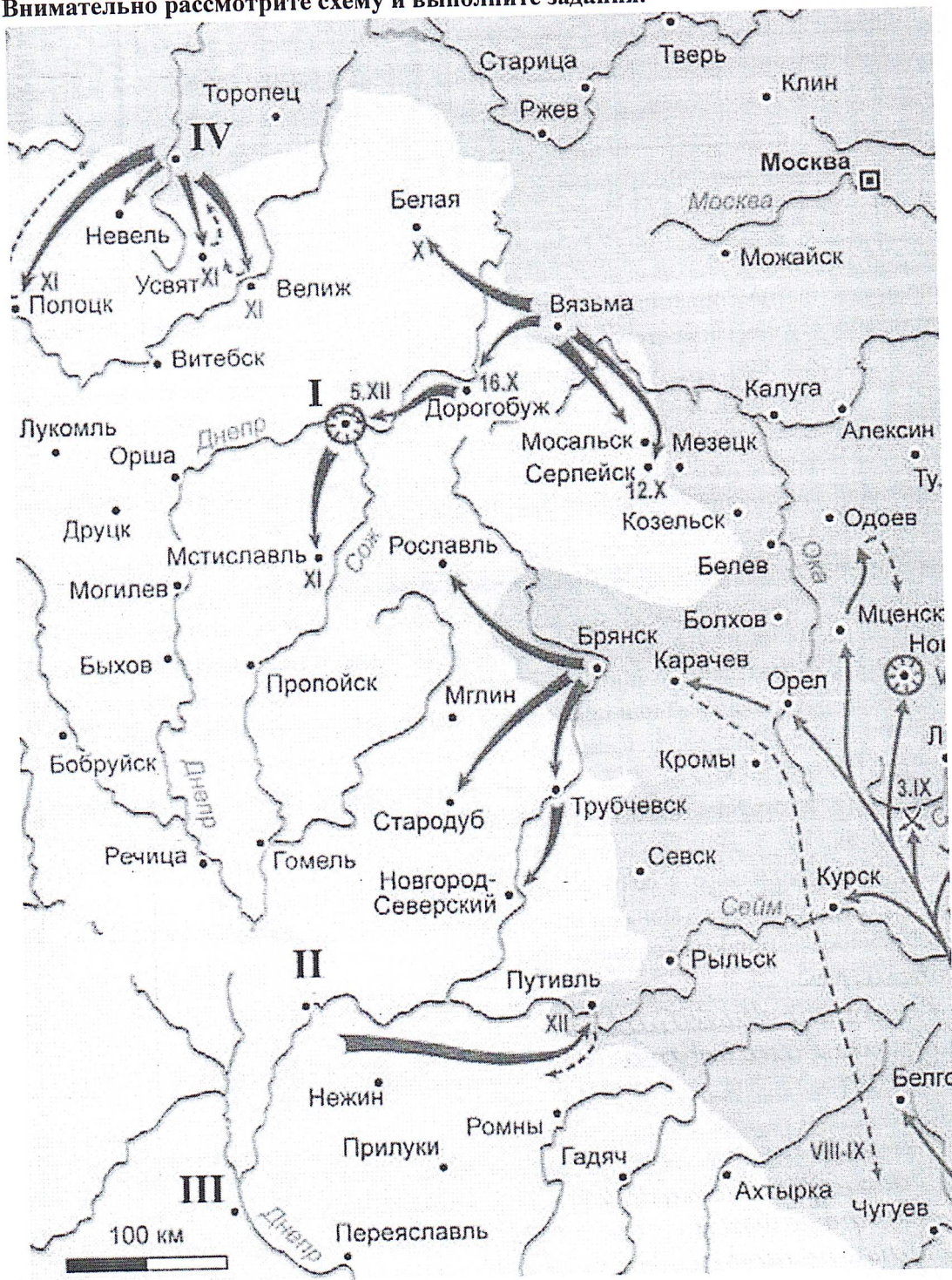
12. Заполните пронумерованные пропуски в тексте. Вставляемые понятия (имена, даты, термины) занесите под соответствующими порядковыми номерами в строки ниже текста.

Князь Иван по прозвищу ___1___ родился в Москве и был вторым сыном московского князя Даниила Александровича. В 1321 г. князь ___2___ Тверской признал власть брата Ивана ___3___ и передал ему ордынскую дань со всего Тверского княжества. Но он вместо того, чтобы отвезти тверскую дань в Орду, отвёз её в Новгород и через купцов-посредников пустил её в оборот, желая получить проценты. Его действия с ордынской данью разгневали хана ___4___, и он передал ярлык на великое княжение тверскому князю. При попытке вернуть ярлык (2) зарубил (3) в Сарай-Берке в ___5___ г., и Иван стал московским князем. В ___6___ г. в Орде был убит сам (2), а ярлык был передан его брату ___7___. В первые же годы своего правления Московским княжеством Иван добился того, что в Москву из Владимира была переведена ___8___ кафедра. Первым ___9___, переехавшим в Москву, был Петр. В ___10___ г. в Твери произошло народное восстание, в котором тверичи убили ордынского посла ___11___ и всю его свиту. Узнав об этом, Иван пошёл на Тверское княжество и разорил его - этот поход получил название ___12___. Тверской князь бежал в Новгород, потом в ___13___. Иван и его союзники требовали выдачи тверского князя, митрополит ___14___ отлучил Александра и псковичей от церкви. Отводя от (13) угрозу вторжения, (7) уехал в Литву. В ___15___ г. Иван организовал поход на ___16___ против князя Ивана Александровича, вступившего в союз с Литвой и отказавшегося платить дань Орде. В начале ___17___ г. Иван постригся в монахи, затем принял схиму и спустя несколько недель скончался. Он назначил своим преемником старшего сына — ___18___.

1. Кошута
2. Дмитрий Михайлович
3. Юрия Даниловича
4. Узбек
5. 1325
6. 1326
7. Александру Михайловичу
8. Митрополитом
9. Митрополитом
10. 1327
11. Чол-Кан
12. Редуткова рать
13. Псков
14. Рогонст
15. 1339
16. Смоленск
17. 1340
18. Симеона

13. Анализ карты

Внимательно рассмотрите схему и выполните задания.



1. Назовите русского монарха, в правление которого велась война, события которой обозначены на схеме.

15 Михаил Тохтамыш

2. Укажите годы, в которые велась война, события которой обозначены на схеме.

3. Назовите город, обозначенный на схеме цифрой «I», который являлся главной целью русских войск в этой войне.

15 Смоленск

4. Укажите римскую цифру, которой обозначен город, уступленный Речью Посполитой согласно Деулинскому перемирию 1618 г.

II

5. Укажите название договора, завершившего войну, события которой обозначены на схеме.

Смоленский

6. Назовите короля страны – противницы России в этой войне. Владислав IV

15
15
15

7. Верны ли представленные ниже утверждения («да» – «нет»)? Ответы внесите в таблицу.

- 1) По мирному договору, который завершил войну, события которой обозначены на схеме, не произошло никаких территориальных изменений.
- 2) По итогам войны, события которой обозначены на схеме, правитель воевавшего с Россией государства отказался от притязаний на российский престол.
- 3) В ходе войны, события которой обозначены на схеме, крымские татары совершили несколько набегов на русские земли.
- 4) Во время Ливонской войны защитники города, обозначенного на схеме цифрой IV, в течение года держали героическую оборону.
- 5) Одним из поводов к началу войны, события которой обозначены на схеме, стала смерть польского короля Сигизмунда III.
- 6) Перед началом войны, события которой обозначены на схеме, был заключён союзный договор между Россией и Швецией.
- 7) За неудачное ведение военных действий в войне, события которой обозначены на схеме, был казнён герой обороны Троице-Сергиевой лавры 1608–1610 гг.
- 8) В составе русской армии во время войны, события которой обозначены на схеме, присутствовали наёмники из стран Западной Европы.


| 1 | 2 | 3 | 4 | 5 | 6 | 7 | 8 |
|-----|----|-----|----|-----|----|-----|----|
| нет | да | нет | да | нет | да | нет | да |

14. Работа с иллюстрациями.


Перед вами – обложки американского журнала Times. Заполните таблицу, расставив буквы, под которыми приведены обложки журнала, в таблицу в хронологической последовательности. Укажите год каждого события, а также укажите лидера СССР, в годы правления которого произошло это событие.

Изображения:


А)



Б)



В)



Г)



Лидеры:

Аури после смерти Александра произойдет страшное восстание на Сенотской площади - восстание декабристов в 1825 году.

Правление Александра I было самым ~~лучшим~~ периодом для России по отношению к международной триумф, победив в Отечественной войне 1812г. Были приняты первые шаги к освобождению крестьян и другие реформы во внутренней политике государства. Но тем не менее к концу правления все сходило на нет, и у молодого поколения, принимавших участие в войне 1812 году растут недовольства. Я согласен с В. Ю. Золотовым: „Надежды на высокие моральные качества и либеральные взгляды дворян не оправдались!“

25 баллов

35

- 1) Круцев Стошин
- 2) Стошин Круцев
- 3) Брежнев

05
05
35

| Буквенное обозначение обложки | Год изображенного на обложке события | Лидер |
|-------------------------------|--------------------------------------|-------|
| В | | А 1 |
| Б | | Б |
| Г | 1961 г. | В |
| А | | |

Последнее задание олимпиады заключается в написании эссе. (Дополнительно выделяется 45 минут)

Для успешного выполнения данного задания Вам необходимо:

- 1) ознакомиться с предложенными темами;
- 2) определить смысл предложенных высказываний и выбрать одно из них для Вашей дальнейшей работы;
- 3) осмыслить выбранную Вами тему в контексте исторической науки;
- 4) сформулировать свое отношение к высказыванию;
- 5) определить исторические термины, понятия и обобщения, которые потребуются Вам для выражения и обоснования позиции на теоретическом уровне;
- 6) отобрать факты, примеры из истории, которые убедительно обосновывают Вашу позицию;
- 7) в краткой форме не более одной страницы изложить Вашу позицию по выбранному высказыванию.

Ваше мнение может совпадать с выбранным или быть противоположным ему.

При оценке эссе жюри будет исходить из следующих критериев:

6. Обоснованность выбора темы (объяснение выбора темы и задач, которые ставит перед собой в своей работе участник).
7. Творческий характер восприятия темы, ее осмысления.
8. Грамотность использования исторических фактов и терминов при раскрытии трех задач, сформулированных во введении.
9. Четкость и доказательность основных положений работы.
10. Знание различных точек зрения по избранному вопросу.

Каждый критерий оценивается от 0 до 5 баллов.

Темы для сочинений-эссе

1. «Русь, доведенная до крайности политикой Святослава Игоревича, переживала трудные времена. Становилась очевидной необходимость кардинальных изменений. Главная заслуга Владимира и состоит в том, что осознав эту необходимость, он решительно взялся за перестройку общественной жизни страны» (М.Ю. Брайчевский).
2. «Победа на Куликовом поле сгубила Мамай, но не создала какого-либо перелома в русско-татарских отношениях. Облегчение участи Великороссии придет лишь в конце XV века. Но это не умаляет, однако, крупного исторического значения битвы» (А.Е. Пресняков).
3. «Уйдя из жизни, Иван Великий продолжал жить в своих делах. Его потомки придерживались основных направлений разработанной им политики, решали задачи, которые он поставил. Для того, чтобы выполнить составленную им программу, стране потребовались целых три столетия» (Н.С. Борисов).
4. «Ни пресечение династии, ни появление самозванца не могли бы сами по себе послужить достаточными причинами Смуты; были какие-либо другие условия, которые сообщили этим

НЕТИПОВОЕ МУНИЦИПАЛЬНОЕ БЮДЖЕТНОЕ
ОБЩЕОБРАЗОВАТЕЛЬНОЕ УЧРЕЖДЕНИЕ
АНЖЕРО-СУДЖЕНСКОГО ГОРОДСКОГО ОКРУГА
«Гимназия № 11»

Олимпиадная работа по истории

Класс 10

Код участника 10 - 005

Божище - эсе

Темой моего сочинения - эсе стоило высказывание В. Ю. Золотарова. Он сказал следующие: „ В результате попыток решения крестьянского вопроса был сделан первый шаг к ликвидации крепостного ^{права}, но само оно ликвидировано не было, так как подавляющее большинство помещиков выступило против этого, а повторить судьбу отца Александр I не хотел. Надежды на высокие моральные качества и либеральные взгляды дворян не оправдались. ”

Эти слова точно описывают обстановку того времени. Действительно, во время начала правления Александр I был либерально настроен на изменения порядков в империи, а в особенности крестьянского вопроса. В 1802 году был создан Неглинский комитет, где император со своими близкими товарищами рассматривали различные идеи преобразований. А уже в 1803 году выходит „указ о вольных хлебопашцах“, который станет первым шагом на пути к освобождению крестьян.

Но вскоре либеральный курс Александра I прекращается. На это повлияло много факторов, но самым важным будет смерть отца Александра - Павла I. Он ~~на всегда запомнил его трагическую смерть~~ Павла I убитым ногой, в результате сговора нескольких придворных дворян к дворцу ~~Александра~~. Это сильно впечатлило Александра, он не хотел повторить судьбу, ведь тот погиб благодаря своим бурным реформам и преобразованиям, которые не были приняты обществом.

Вторая половина правления Александра уже не будет такой реформаторской, она пройдет под такими понятиями как „архаизация“. Его политика будет не актуальна среди молодого поколения дворян. А тем самым днями ^{его} какою правления просветит свой ^{его} строк даже Пушкин. Александр не оправдает возложенные на него надежды.

либо переведёт в русские порты и оставит там до заключения всеобщего мира, либо немедленно разоружит.

В Балтийском море и в подвластных России частях Чёрного моря немедленно должно начаться удаление минных заграждений. Торговое судоходство в этих морских областях свободно и немедленно возобновляется».

- 15
- а) Российская империя
 - б) Германская империя
 - в) Италия
 - г) Османская империя
 - д) Австрийская империя
 - е) Болгария

6. Какие из перечисленных событий произошли в 1955 г.?

- 05
- а) создание ОВД
 - б) упразднение Коминтерна
 - в) заключение мира с Германией
 - г) назначение Н. А. Булганина Председателем Совета Министров
 - д) разгром «Антипартийной группы»
 - е) подписание договора о нераспространении ядерного оружия

Что или кто является лишним в ряду

(лишнее слово подчеркните и кратко объясните свой выбор)

Правильный ответ оценивается в 2 балла

15 7. Б. Монтомери, Д. Эйзенхауэр, И. Броз Тито, Ш. де Голль, М. Роля-Жимерски, Михай I.

15 8. ~~Гжедь~~, Жостово, Павловский Посад, Сергиев Посад, Гусь-Хрустальный

15 9. Великий Новгород, ~~Рязань~~, Старая Русса, Псков.

10. Расположите российских полководцев в хронологической последовательности их деятельности. Максимальный балл 4.

- А) Б. П. Шереметьев
- Б) В. Д. Холмский
- В) Ф. Ф. Буксгевден
- Г) М. Д. Скобелев
- Д) П. А. Румянцев
- Е) А. Б. Горбатый-Шуйский

Е А Б В Г В

11. Установите соответствия между архитекторами и зданиями, которые они спроектировали. Запишите в таблицу выбранные цифры под соответствующими буквами.

| АРХИТЕКТОР | ЗДАНИЕ |
|------------------|--------------------------------|
| А) Ф. О. Шехтель | 1) Исторический музей в Москве |

10-11 класс

Максимальное время: 90 минут
Максимальный балл: 100 баллов

1. Укажите пропущенную в приведённом ряду фамилию, отметив V.
Витте С.Ю., Горемыкин И.Л., ..., Коковцов В.Н.

- Булыгин А.Г.
- Столыпин П.А.
- Трепов Д.Ф.
- Шмидт П.П.

15

Председатели Совета министров Российской империи в 1905 – 1914 гг.: С.Ю.Витте (октябрь 1905 – апрель 1906 гг.), И.Л. Горемыкин (апрель – июль 1906 г.), П.А. Столыпин (июль 1906 – сентябрь 1911 гг.), В.Н. Коковцов (сентябрь 1911 – январь 1914 гг.).

Максимум за задание - 1 балл.

Выберите правильный вариант ответа и обведите его кружком. Каждый правильный ответ 1 балл.

2. Какой из городов Кемеровской области не был основан в XIX – XX вв.?

- а) Мариинск
- б) Новокузнецк
- в) Гурьевск
- г) Прокопьевск

15

3. Кто является автором произведений: «Повесть о Михайле Волкове», «Горный рекрут», «Серебряный рудник»?

- а) В. Рехлов
- б) В. Мазаев
- в) А. Волошин
- г) В. Федоров

15

Выберите три правильных ответа, из предложенных Вам, и обведите их кружком.
Полностью правильный ответ оценивается в 2 балла.

4. Укажите названия храмов, построенных ДО Батыева нашествия

- А) Георгиевский собор (г. Юрьев-Польский)
- Б) Церковь Покрова на Нерли
- В) Успенский собор во Владимире-на-Клязьме
- Г) Успенский собор Московского Кремля
- Д) Церковь Троицы Живоначальной в Никитниках
- Е) Церковь Вознесения в Коломенском

25

5. Какие из перечисленных государств участвовали в подписании международного договора, фрагмент из которого приведён?

«Россия незамедлительно произведёт полную демобилизацию своей армии, включая и войсковые части, вновь сформированные теперешним правительством. Кроме того, свои военные суда Россия

либо переведёт в русские порты и оставит там до заключения всеобщего мира, либо немедленно разоружит.

В Балтийском море и в подвластных России частях Чёрного моря немедленно должно начаться удаление минных заграждений. Торговое судоходство в этих морских областях свободно и немедленно возобновляется».

- а) Российская империя
- б) Германская империя
- в) Италия
- г) Османская империя
- д) Австрийская империя
- е) Болгария

05

6. Какие из перечисленных событий произошли в 1955 г.?

- а) создание ОВД
- б) упразднение Коминтерна
- в) заключение мира с Германией
- г) назначение Н. А. Булганина Председателем Совета Министров
- д) разгром «Антипартийной группы»
- е) подписание договора о нераспространении ядерного оружия

25

Что или кто является лишним в ряду

(лишнее слово подчеркните и кратко объясните свой выбор)

Правильный ответ оценивается в 2 балла

7. Б. Монтгомери, Д. Эйзенхауэр, И. Броз Тито, Ш. де Голль, М. Роля-Жимерски, Михай I.

Михай I

05

8. Гжель, Жостово, Павловский Посад, Сергиев Посад, Гусь-Хрустальный

Гжель - это стиль (направление) в искусстве, расписании предметов

05

9. Великий Новгород, Рязань, Старая Русса, Псков.

Старая Русса - древний город на Руси.

15

10. Расположите российских полководцев в хронологической последовательности их деятельности. Максимальный балл 4.

- А) Б. П. Шереметьев
- Б) В. Д. Холмский
- В) Ф. Ф. Буксгевден
- Г) М. Д. Скобелев
- Д) П. А. Румянцев
- Е) А. Б. Горбатый-Шуйский

45

БЕАДВГ

11. Установите соответствия между архитекторами и зданиями, которые они спроектировали. Запишите в таблицу выбранные цифры под соответствующими буквами.

| АРХИТЕКТОР | ЗДАНИЕ |
|------------------|--------------------------------|
| А) Ф. О. Шехтель | 1) Исторический музей в Москве |

| | |
|---------------------|-----------------------------------|
| Б) О. И. Бове | 2) Исаакиевский собор |
| В) А. Н. Померанцев | 3) Большой Кремлёвский дворец |
| Г) О. Монферран | 4) Большой театр в Москве |
| Д) В. О. Шервуд | 5) Михайловский замок |
| Е) К. А. Тон | 6) особняк С. П. Рябушинского |
| | 7) Верхние торговые ряды в Москве |

Ответ:

| А | Б | В | Г | Д | Е |
|---|---|---|---|---|---|
| | | | | | |

12. Заполните пронумерованные пропуски в тексте. Вставляемые понятия (имена, даты, термины) занесите под соответствующими порядковыми номерами в строки ниже текста.

Князь Иван по прозвищу ___1___ родился в Москве и был вторым сыном московского князя Даниила Александровича. В 1321 г. князь ___2___ Тверской признал власть брата Ивана ___3___ и передал ему ордынскую дань со всего Тверского княжества. Но он вместо того, чтобы отвезти тверскую дань в Орду, отвёз её в Новгород и через купцов-посредников пустил её в оборот, желая получить проценты. Его действия с ордынской данью разгневали хана ___4___, и он передал ярлык на великое княжение тверскому князю. При попытке вернуть ярлык (2) зарубил (3) в Сарай-Берке в ___5___ г., и Иван стал московским князем. В ___6___ г. в Орде был убит сам (2), а ярлык был передан его брату ___7___. В первые же годы своего правления Московским княжеством Иван добился того, что в Москву из Владимира была переведена ___8___ кафедра. Первым ___9___, переехавшим в Москву, был Петр. В ___10___ г. в Твери произошло народное восстание, в котором тверичи убили ордынского посла ___11___ и всю его свиту. Узнав об этом, Иван пошёл на Тверское княжество и разорил его - этот поход получил название ___12___. Тверской князь бежал в Новгород, потом в ___13___. Иван и его союзники требовали выдачи тверского князя, митрополит ___14___ отлучил Александра и псковичей от церкви. Отводя от (13) угрозу вторжения, (7) уехал в Литву. В ___15___ г. Иван организовал поход на ___16___ против князя Ивана Александровича, вступившего в союз с Литвой и отказавшегося платить дань Орде. В начале ___17___ г. Иван постригся в монахи, затем принял схиму и спустя несколько недель скончался. Он назначил своим преемником старшего сына — ___18___.

1. Калита
2. ~~Юрия Даниловича~~ Дмитрий Михайловича.
3. Юрия Даниловича
4. Чудека
5. 1325
6. 1326
7. Александру Михайловичу
8. митрополиты
9. митрополиты
10. 1327
11. Чел-Хана
12. Федорчукова рай
13. Псков
14. Феоноста
15. 1339
16. Смоленск
17. 1340
18. Симеона

НЕТИПОВОЕ МУНИЦИПАЛЬНОЕ БЮДЖЕТНОЕ
ОБЩЕОБРАЗОВАТЕЛЬНОЕ УЧРЕЖДЕНИЕ
АНЖЕРО-СУДЖЕНСКОГО ГОРОДСКОГО ОКРУГА
«Гимназия № 11»

Олимпиадная работа по истории

Класс 11

Код участника 11.003 11.003

Выбранная мною тема 11, является довольно интересной, так как я очень люблю Древнюю Русь и Древнерусское государство.

Правление Светослава Игоревича одно из самых противоречивых в Древней Руси. Он был смел и воинственен и говорил: "Иду на вы". Его внешняя политика была довольно успешной. В 964 году он подчинил вятичей и возложил на них дань; поделил Волжскую Булгарию и Хазарский каганат; присоединил Тмутаракань. В 970/971 гг. была война с Византией при императоре Иоанне Цимискихе, закончилась неудачной для Руси, а также договором в 971 г. при Доростоле: обязанностью Византии было платить дань ~~Древней~~ Руси; обязанностью Руси было не нападать и помогать Византии. Но внутренняя политика Светослава Игоревича была не такой успешной, ведь Светослав постоянно был в походах и был заинтересован в присоединении земель. В конце своего правления он хотел остаться в Переяславле, а не возвращаться в Киев к матери и народу. И в последствии этого в 968 году на Киев нападают печенеги, но до приезда Светослава печенеги отступают. Поэтому, можно сказать, что Светослав больше занимался внешней политикой, завоеванием земель, чем внутренней политикой.

Владимир I Светославич понял, что после правления отца Светослава Игоревича внутренняя политика очень сильно пострадала и для начала решил провести языческую реформу (Перун), которая оказалась неудачной. Позже он решил принять христианство, возможно, предшлвкой к этому стало принятие христианства его бабушкой Ольгой Светославной. В 988 году он крестился и крестил всю Русь в Херсонесе / Корсуни. Принятием христианства он хотел избавиться от язычества, он хотел, чтобы у всех была одна религия, которая сплотила народ. Тем самым у Владимира I Светославича внешняя политика была настроена на изменение общества.

258

15. Я соглашусь с утверждением о том, что политика Святослава Игоревича во время его правления в 962-972 годах была осведомленной. По большей части из-за войн, давших ему материальную поддержку, переданную ему в 962 г. Хотя на его счету есть разгром Хазарского каганата в 969-70 гг., но кардинальным изменением действительно стало в 974-75 гг.

Владимир I был сыном Святослава после Ярополка и Олега. Нравственно в 980 г. пошел на Киев, то есть ~~на~~ наследовал в нем Рюрик и его сыновья. Иные же шли через войну Блуду. Когда он начал самозванно княжить - сначала он пошел парадом в стране - три года спустя встал и правил ~~самостоятельно~~ реформы в 980 г. Также пошел представителем для знакомства с разными религиями и остановился на византийском христианстве. На его счету знаменитая - 28 июня 988 г. - крещение Киева и всей Руси. Как он сам говорил: "Кто не крестится, тот не дремлет".

За крещением, отныне и далее действительно пошло строительство Руси, также развитие культуры, возвышение архитектуры, возвышение грамотности, возвышение авторитета церкви, усиление связи с Византией, рост авторитета в Европе и усиление характера Владимира. Там что подвиг и тот - даже с учетом двукратной политики Владимира то неострашное осуждение была утешительной

4. Укажите римскую цифру, которой обозначен город, уступленный Речью Посполитой согласно Деулинскому перемирию 1618 г.

5. Укажите название договора, завершившего войну, события которой обозначены на схеме.

6. Назовите короля страны – противницы России в этой войне.

7. Верны ли представленные ниже утверждения («да» – «нет»)? Ответы внесите в таблицу.

- 1) По мирному договору, который завершил войну, события которой обозначены на схеме, не произошло никаких территориальных изменений.
- 2) По итогам войны, события которой обозначены на схеме, правитель воевавшего с Россией государства отказался от притязаний на российский престол.
- 3) В ходе войны, события которой обозначены на схеме, крымские татары совершили несколько набегов на русские земли.
- 4) Во время Ливонской войны защитники города, обозначенного на схеме цифрой IV, в течение года держали героическую оборону.
- 5) Одним из поводов к началу войны, события которой обозначены на схеме, стала смерть польского короля Сигизмунда III.
- 6) Перед началом войны, события которой обозначены на схеме, был заключён союзный договор между Россией и Швецией.
- 7) За неудачное ведение военных действий в войне, события которой обозначены на схеме, был казнён герой обороны Троице-Сергиевой лавры 1608–1610 гг.
- 8) В составе русской армии во время войны, события которой обозначены на схеме, присутствовали наёмники из стран Западной Европы.

| 1 | 2 | 3 | 4 | 5 | 6 | 7 | 8 |
|-----|----|----|-----|----|-----|-----|----|
| нет | да | да | нет | да | нет | нет | да |

15 15 15 15 15 15 15 15

14. Работа с иллюстрациями.


Перед вами – обложки американского журнала Times. Заполните таблицу, расставив буквы, под которыми приведены обложки журнала, в таблицу в хронологической последовательности. Укажите год каждого события, а также укажите лидера СССР, в годы правления которого произошло это событие.

Изображения:

А)



Б)



В)



Г)



Лидеры:

Олимпиадная работа по истории

720

Класс 11

К.с.г. 19-003

1. Столыпин П. А 15

2.

3. А 15

4. Б; В 15

5. А; Б; Г; Е 15

6. А; Г 15

7. Удде Галило - на картонке арзенск. "Голубая" 25

8. Сергиев Монах - на дкл. Местом знаменит. народ. творчества 25

9. Старая Русса - на фоне центрам резальс. митингта 25

10. Б; Е; А; Д; В; Г 05

| | | | | | |
|-------|---|---|---|---|---|
| 11. А | Б | В | Г | Д | Е |
| 6 | 4 | 7 | 2 | 1 | 3 |

65

12. 1) Кашин 15

2) Дмитрий Михайлович 15

3) Юрий Фоминичев 15

4) Куцуца 15

5) 1325Г 15

6) 1325Г 15

7) 15

8) Митрофанов 15

9) Митрофанов 15

10) 1327 15

11) Чухом 15

12) Федоруктава ратб 15

13) Печов 15

14) 15

15) 1333 15

16) машинет 15

17) 1340 15

18) Сивина 15

13. 1) Василий Шуйский 15

2) 1603-1618Г 05

3) Сивинск 15

4) ~~Сивинск~~ I 05

5) Печинская гиредир. 05

6) Владислав IV 15

7)

| | | | | | | | |
|-----|----|-----|----|----|----|-----|----|
| 1 | 2 | 3 | 4 | 5 | 6 | 7 | 8 |
| Кет | Ва | Кет | Ва | Ва | Ва | Кет | Ва |

15 15 05 05 15 05 15 15

14. Агери

1) Сталин

2) Хрущев

3) Брежнев

4) А-

2) Б - 1932, Хрущев 25

1) В - 1931, Сталин 25

3) Г - 1901, Хрущев 35

515

10-11 класс

Максимальное время: 90 минут
Максимальный балл: 100 баллов

1. Укажите пропущенную в приведённом ряду фамилию, отметив V.
Витте С.Ю., Горемыкин И.Л., ..., Коковцов В.Н.

- Булыгин А.Г.
- Столыпин П.А. ✓
- Трепов Д.Ф.
- Шмидт П.П.

15

Председатели Совета министров Российской империи в 1905 – 1914 гг.: С.Ю.Витте (октябрь 1905 – апрель 1906 гг.), И.Л. Горемыкин (апрель – июль 1906 г.), П.А. Столыпин (июль 1906 – сентябрь 1911 гг.), В.Н. Коковцов (сентябрь 1911 – январь 1914 гг.).

Максимум за задание - 1 балл.

Выберите правильный вариант ответа и обведите его кружком. Каждый правильный ответ 1 балл.

2. Какой из городов Кемеровской области не был основан в XIX – XX вв.?

- а) Мариинск
- б) Новокузнецк
- в) Гурьевск
- г) Прокопьевск

15

3. Кто является автором произведений: «Повесть о Михайле Волкове», «Горный рекрут», «Серебряный рудник»?

- а) В. Рехлов
- б) В. Мазаев
- в) А. Волошин
- г) В. Федоров

15

Выберите три правильных ответа, из предложенных Вам, и обведите их кружком.
Полностью правильный ответ оценивается в 2 балла.

4. Укажите названия храмов, построенных ДО Батыева нашествия

- А) Георгиевский собор (г. Юрьев-Польский)
- Б) Церковь Покрова на Нерли
- В) Успенский собор во Владимире-на-Клязьме
- Г) Успенский собор Московского Кремля
- Д) Церковь Троицы Живоначальной в Никитниках
- Е) Церковь Вознесения в Коломенском

25

5. Какие из перечисленных государств участвовали в подписании международного договора, фрагмент из которого приведён?

«Россия незамедлительно произведёт полную демобилизацию своей армии, включая и войсковые части, вновь сформированные теперешним правительством. Кроме того, свои военные суда Россия

либо переведёт в русские порты и оставит там до заключения всеобщего мира, либо немедленно разоружит.

В Балтийском море и в подвластных России частях Чёрного моря немедленно должно начаться удаление минных заграждений. Торговое судоходство в этих морских областях свободно и немедленно возобновляется».

- а) Российская империя
- б) Германская империя
- в) Италия
- г) Османская империя
- д) Австрийская империя
- е) Болгария

25

6. Какие из перечисленных событий произошли в 1955 г.?

- а) создание ОВД
- б) упразднение Коминтерна
- в) заключение мира с Германией
- г) назначение Н. А. Булганина Председателем Совета Министров
- д) разгром «Антипартийной группы»
- е) подписание договора о нераспространении ядерного оружия

25

Что или кто является лишним в ряду

(лишнее слово подчеркните и кратко объясните свой выбор)

Правильный ответ оценивается в 2 балла

7. Б. Монтгомери, Д. Эйзенхауэр, И. Броз Тито, Ш. де Голль, М. Роля-Жимерски, Михай I.

~~Михай I~~ _____ 15

8. Гжель, Жостово, Павловский Посад, Сергиев Посад, Гусь-Хрустальный

Гжель - роспись на посуде _____ 05

9. Великий Новгород, Рязань, Старая Русса, Псков.

Старая Русса - древний город. _____ 25

10. Расположите российских полководцев в хронологической последовательности их деятельности. Максимальный балл 4.

- А) Б. П. Шереметьев
- Б) В. Д. Холмский
- В) Ф. Ф. Буксгевден
- Г) М. Д. Скобелев
- Д) П. А. Румянцев
- Е) А. Б. Горбатый-Шуйский

Б Е А Д В Г _____ 45

11. Установите соответствия между архитекторами и зданиями, которые они спроектировали.

Запишите в таблицу выбранные цифры под соответствующими буквами.

| АРХИТЕКТОР | ЗДАНИЕ |
|------------------|--------------------------------|
| А) Ф. О. Шехтель | 1) Исторический музей в Москве |

515

10-11 класс

Максимальное время: 90 минут

Максимальный балл: 100 баллов

1. Укажите пропущенную в приведённом ряду фамилию, отметив V.

Витте С.Ю., Горемыкин И.Л., ..., Коковцов В.Н.

- Булыгин А.Г.
- Ⓐ Столыпин П.А.
- Трепов Д.Ф.
- Шмидт П.П.

15

Председатели Совета министров Российской империи в 1905 – 1914 гг.: С.Ю.Витте (октябрь 1905 – апрель 1906 гг.), И.Л. Горемыкин (апрель – июль 1906 г.), П.А. Столыпин (июль 1906 – сентябрь 1911 гг.), В.Н. Коковцов (сентябрь 1911 – январь 1914 гг.).

Максимум за задание - 1 балл.

Выберите правильный вариант ответа и обведите его кружком. Каждый правильный ответ 1 балл.

2. Какой из городов Кемеровской области не был основан в XIX – XX вв.?

- Ⓐ Мариинск
- б) Новокузнецк
- в) Гурьевск
- г) Прокопьевск

15

3. Кто является автором произведений: «Повесть о Михайле Волкове», «Горный рекрут», «Серебряный рудник»?

- Ⓐ В. Рехлов
- б) В. Мазаев
- в) А. Волошин
- г) В. Федоров

15

Выберите три правильных ответа, из предложенных Вам, и обведите их кружком.

Полностью правильный ответ оценивается в 2 балла.

4. Укажите названия храмов, построенных ДО Батыева нашествия

- Ⓐ Георгиевский собор (г. Юрьев-Польский)
- Ⓑ Церковь Покрова на Нерли
- Ⓒ Успенский собор во Владимире-на-Клязьме
- Ⓓ Успенский собор Московского Кремля
- Ⓔ Церковь Троицы Живоначальной в Никитниках
- Ⓕ Церковь Вознесения в Коломенском

25

5. Какие из перечисленных государств участвовали в подписании международного договора, фрагмент из которого приведён?

«Россия незамедлительно произведёт полную демобилизацию своей армии, включая и войсковые части, вновь сформированные теперешним правительством. Кроме того, свои военные суда Россия

либо переведёт в русские порты и оставит там до заключения всеобщего мира, либо немедленно разоружит.

В Балтийском море и в подвластных России частях Чёрного моря немедленно должно начаться удаление минных заграждений. Торговое судоходство в этих морских областях свободно и немедленно возобновляется».

- а) Российская империя
 б) Германская империя
 в) Италия
 г) Османская империя
 д) Австрийская империя
 е) Болгария

25

6. Какие из перечисленных событий произошли в 1955 г.?

- а) создание ОВД
 б) упразднение Коминтерна
 в) заключение мира с Германией
 г) назначение Н. А. Булганина Председателем Совета Министров
 д) разгром «Антипартийной группы»
 е) подписание договора о нераспространении ядерного оружия

25

Что или кто является лишним в ряду
 (лишнее слово подчеркните и кратко объясните свой выбор)
 Правильный ответ оценивается в 2 балла

7. Б. Монтгомери, Д. Эйзенхауэр, И. Броз Тито, Ш. де Голль, М. Роля-Жимерски, Михай I.

Михай I, это деятель более позднего времени, нежели остальные

15

8. Гжель, Жостово, Павловский Посад, Сергиев Посад, Гусь-Хрустальный

В Сергиевском Посаде не производят культурные ценности

15

9. Великий Новгород, Рязань, Старая Русса, Псков.

Название города не было до времени существования Российской Федерации

15

10. Расположите российских полководцев в хронологической последовательности их деятельности. Максимальный балл 4.

- А) Б. П. Шереметьев
 Б) В. Д. Холмский
 В) Ф. Ф. Буксгевден
 Г) М. Д. Скобелев
 Д) П. А. Румянцев
 Е) А. Б. Горбатов-Шуйский

Б. В. АДВГ

25

11. Установите соответствия между архитекторами и зданиями, которые они спроектировали. Запишите в таблицу выбранные цифры под соответствующими буквами.

| АРХИТЕКТОР | ЗДАНИЕ |
|------------------|--------------------------------|
| А) Ф. О. Шехтель | 1) Исторический музей в Москве |
| Б) О. И. Бове | 2) Исаакиевский собор |

| | |
|---------------------|-----------------------------------|
| Б) О. И. Бове | 2) Исаакиевский собор |
| В) А. Н. Померанцев | 3) Большой Кремлёвский дворец |
| Г) О. Монферран | 4) Большой театр в Москве |
| Д) В. О. Шервуд | 5) Михайловский замок |
| Е) К. А. Тон | 6) особняк С. П. Рябушинского |
| | 7) Верхние торговые ряды в Москве |

Ответ:

| А | Б | В | Г | Д | Е |
|---|---|---|---|---|---|
| 6 | 4 | 7 | 2 | 1 | 3 |

12. Заполните пронумерованные пропуски в тексте. Вставляемые понятия (имена, даты, термины) занесите под соответствующими порядковыми номерами в строки ниже текста.

Князь Иван по прозвищу ___1___ родился в Москве и был вторым сыном московского князя Даниила Александровича. В 1321 г. князь ___2___ Тверской признал власть брата Ивана ___3___ и передал ему ордынскую дань со всего Тверского княжества. Но он вместо того, чтобы отвезти тверскую дань в Орду, отвёз её в Новгород и через купцов-посредников пустил её в оборот, желая получить проценты. Его действия с ордынской данью разгневали хана ___4___, и он передал ярлык на великое княжение тверскому князю. При попытке вернуть ярлык (2) зарубил (3) в Сарай-Берке в ___5___ г., и Иван стал московским князем. В ___6___ г. в Орде был убит сам (2), а ярлык был передан его брату ___7___. В первые же годы своего правления Московским княжеством Иван добился того, что в Москву из Владимира была переведена ___8___ кафедра. Первым ___9___, переехавшим в Москву, был Петр. В ___10___ г. в Твери произошло народное восстание, в котором тверичи убили ордынского посла ___11___ и всю его свиту. Узнав об этом, Иван пошёл на Тверское княжество и разорил его - этот поход получил название ___12___. Тверской князь бежал в Новгород, потом в ___13___. Иван и его союзники требовали выдачи тверского князя, митрополит ___14___ отлучил Александра и псковичей от церкви. Отводя от (13) угрозу вторжения, (7) уехал в Литву. В ___15___ г. Иван организовал поход на ___16___ против князя Ивана Александровича, вступившего в союз с Литвой и отказавшегося платить дань Орде. В начале ___17___ г. Иван постригся в монахи, затем принял схиму и спустя несколько недель скончался. Он назначил своим преемником старшего сына — ___18___.

1. Капита 15
2. Юрия Даниловича Дмитрий Михайлович 15
3. Юрия Даниловича. 15
4. Узбека 15
5. 1325 15
6. 1326 15
7. Александр Михайлович 15
8. митрополиты 15
9. митрополитом 15
10. 1324 15
11. Чел - хана 15
12. Федорчукова рать. 15
13. Лекон 15
14. Революция 15
15. 1339 15
16. Смоленск 15
17. 1340 15
18. Симеону Симеону 15



1. Назовите российского монарха, в правление которого велась война, события которой обозначены на схеме.

Михаил Романов

10

2. Укажите годы, в которые велась война, события которой обозначены на схеме.

1609-1611

05

3. Назовите город, обозначенный на схеме цифрой «I», который являлся главной целью русских войск в этой войне.

Смоленск

10

4. Укажите римскую цифру, которой обозначен город, уступленный Речью Посполитой согласно Деулинскому перемирию 1618 г.

IV

05

угадывать таланты и умело их использовать и о привлечении им помощников из самой разнородной национальной и социальной среды» (Н. И. Павленко).

6. «В результате попыток решения крестьянского вопроса был сделан первый шаг к ликвидации крепостного права, но само оно ликвидировано не было, так как подавляющее большинство помещиков выступало против этого, а повторить судьбу отца Александр (I) не хотел. Надежды на высокие моральные качества и либеральные взгляды дворян не оправдались» (В. Ю. Захаров).
7. «Со времён Петра Великого ни одна из войн для нашей страны не была войной за будущее в такой степени, как русско-японская» (С. Ольденбург).
8. «Сталин нанес армии самый страшный удар, какой вообще можно себе представить. Армия стала ниже на несколько голов. Она потрясена морально до самых своих основ. Интересы обороны страны принесены в жертву интересам самосохранения правящей клики» (Л.Д, Троцкий).
9. «При новом руководителе партии и государства Никите Сергеевиче Хрущеве страна стала вновь возрождаться. Именно тогда на деле начали осуществляться основы социализма: свобода, справедливость, солидарность. Однако после XXII съезда партии все еще много численные явные и тайные сталинисты объединились в заговоре против Хрущева и сняли его со всех постов» (З.Л. Серебрякова).

„Победа на Куликовом поле создала Маме, но не создала какого-либо перелома в русско-татарских отношениях. Обращение князя Великого князя в конце XV века. Но это не умаляет, а только подчеркивает историческое значение битвы“ - писал Пресняков, и да, его слова можно смело вернуть. Победа в Куликовской Битве бесспорно очень важное историческое событие. Невозможно умалять ее значение поскольку именно она стала первой крупной победой над войсками Золотой Орды

Широко известная Куликовская битва произошла в 1380 г. под предводительством Дмитрия Донского. Перед битвой Сергий Радонежский благословил русского князя на битву, что можно считать одной из причин победы русских войск, также, считается, что именно он дал Дмитрию совет схватки с войсками монголо-татарского владыки начали битва на Куликовом поле. В битве победа стала возможной благодаря полководческим талантам Дмитрия Донского. Битва была кровопролитной и беспорядочной, наши войска заметно ругали, но и полки противника значительны теряли свои боевые возможности. Именно в этот момент Дмитрий Донской достал свой козырь из рукава. Перебравшись, оставшие войска монголо-татар застали врасплох „засаженный полк“, охваченный спешно часа вблизи от места сражения. Считается, что именно это стратегическое решение сыграло решающую роль в победе. Ими наконец одержали ее.

Но от зависимости это нас не освободило, это происходит только в 1480 г. при стоянии на р. Угре в связи с чем возникает вопрос, почему же Куликовская битва столько лет. Ответ же не так скатать. Благодаря этой победе возрос боевой дух войска, наконец появился надежда на освобождение от зависимости Золотой Орды, повсеместно ослаб режим зависимости, все не так спешили за армией и разрозненными. Свобода духа русского народа и привела нас через 100 лет к освобождению от монголо-татарской зависимости.

1. Укажите год смены князей на Киевском княжении, пропущенный в приведённом ряду.
882, 912, ..., 964.

- 944
- 945
- 941
- 947

05

Максимум за задание – 0,5 балла.

2. Ниже приведён список земель в порядке их присоединения к Москве. Выберите название земли, пропущенное в данном ряду.

Тверь, Псков, .., Рязань.

- Новгород
- Ярославль
- Суздаль
- Смоленск

25

Максимум за задание – 0,5 балла

3. Ниже приведены термины. Выберите те, которые относятся к социальному устройству Древнерусского государства.

- Закуп
- Баскак
- Огнищанин
- Тиун
- Мещанин
- Помещик

25

25

25

За каждый правильный ответ - 2 балла. Если выбрано больше 4 утверждений, то 0 баллов. За каждый неверный выбор штраф - 1 балл. Максимум за задание - 6 баллов.

4. Расставьте события в хронологической последовательности.

Ответ запишите в виде последовательности букв (например, АБВГД)

Правильный ответ оценивается в 5 баллов

- А) Создание Московского университета
- Б) Открытие Высших женских курсов
- В) Открытие Славяно-Греко-Латинской академии
- Г) Создание Академии наук
- Д) Открытие первых навигацкой и артиллерийской школ

в а г д б

05

5.

- А) Азовские походы
- Б) Смоленская война

В) Указ об урочных летах

Г) Ништадтский мир

Д) Церковный раскол

в г д а

05

05

Правильный ответ оценивается в 5 баллов

6.

Установите соответствие между рядами данных и запишите ответ в виде последовательности цифр и букв (например, 1а 2б 3в 4г 5д)

Каждый полный правильный ответ оценивается в 5 баллов, при выполнении 50 % задания дается 2 балла

| Звание | Личность |
|------------------------|----------------------|
| 1. Генерал-фельдмаршал | А. А.В. Суворов |
| 2. Гетман | Б. Ф.Ф. Ушаков |
| 3. Генералиссимус | В. Б. М. Хмельницкий |
| 4. Адмирал | Г. Ермак Тимофеевич |
| 5. Атаман | Д. П. А. Румянцев |

1-б; 2-в; 3-а; 4-г; 5-д
7. 05 05 15 15 15

| Наука | Определение |
|----------------|--|
| 1. Топонимика | А. Наука о географических названиях |
| 2. Геральдика | Б. Наука о печатях |
| 3. Сфрагистика | В. Наука о происхождении родственных связей отдельных людей и целых семейств |
| 4. Генеалогия | Г. Наука о гербах |
| 5. Нумизматика | Д. Наука о монетах и чеканке монет |

1-а; 2-в; 3-б; 4-г; 5-д
15 15 15 15 15

Правильный ответ оценивается в 5 баллов

8. Работа с текстом

Определите пропущенные в тексте названия, термины, имена, даты, обозначенные порядковыми номерами. При необходимости при порядковых номерах даются пояснения о характере требуемой вставки.

«В (1) году скончался (2 - имя царя) последний правитель из династии Рюриковичей. Земским собором был избран брат жены царя - (3 - имя царя).

Правление нового царя было непростым. Уже в первые годы его правления в стране разразился Великий голод, из-за которого даже пришлось временно восстановить (4 - термин) - крестьянам вернули возможность переходить от одного землевладельца к другому, которой они были лишены ещё в (5) году. Вскоре (4) был вновь отменён и восстановлены, и даже увеличены, (6 - термин). Всё это вызывало недовольство населения, в первую очередь крестьянства, вылившееся в восстание под предводительством (7 - имя). Восстание охватывало всё более обширные районы, но в итоге было подавлено посланными из (8 - населённый пункт) войсками, несмотря на то, что в ходе борьбы восставшим удалось убить царского воеводу. Вместе с тем по стране не прекращались слухи, что род Рюриковичей не прервался. В (9) году

1. Напишите имя царя, при котором осуществлялись походы изображенные на карте.

Иван Грозный

2. Запишите названия городов, обозначенных на карте цифрами от 1 до 6.

1 - Ростов; 2 - Казань;

3. Подпишите название реки, на берегах которой расположено большинство перечисленных поселений.

Волга

4. Назовите племена, которые добровольно перешли в русское подданство после присоединения Казани.

Суваши, Татры, Башкиры

105

ИТОГО: 20 баллов

11.

Установите соответствие между фрагментами исторических источников и их краткими характеристиками: к каждому фрагменту, обозначенному буквой, подберите по **три** соответствующие характеристики.

Обратите внимание на то, что среди приведённых характеристик есть «лишние».

Фрагменты источников:

А. «В 20 день сего Октября, по совету в Сенате обще с Синодом, намерение воспринято, Его Величество, в показание своего должного благодарения за высокую Его милость и Отеческое попечение и старание, которое Он о благополучии Государства во всё время Своего славнейшего Государствования, и особливо во время прошедшей Шведской войны явить изволил, и Всероссийское Государство в такое сильное и доброе состояние, и народ Свой подданной в такую славу у всего света чрез единое токмо Своё руководство привёл, как то всем довольно известно, именем всего народа Российского просить, дабы изволил принять, по примеру других, от них титуло: Отца Отечества, Императора Всероссийского».

Б. «Шведский король вышел из Саксонии со всеми своими полками. Он оставил в Польше для поддержания Станислава, им коронованного, 20 000 войска (в том числе 9000 новоприбывшего из Швеции) под начальством генерала графа Крассау; а сам пошёл к Днепру, переправился через него, несмотря на все препятствия, и приблизился к самой Полтаве, где его царское величество остановился и укреплялся, предав огню и разорению собственную землю, дабы отнять у неприятеля способы к пропитанию.

Вся Европа видела конец несчастного похода и падение короля, дотоле непобедимого. Войско его было уничтожено или захвачено в плен. Его совет, чиновники, за ним последовавшие, имели ту же участь; сам король, дабы не попасться в руки своим врагам, пробился с тремя стами конных в турецкую землю, за Днестр, в соседство буджацких татар и искал убежища в Бендерах».

В. «Да ты же, великий государь, собрал собор, в них же председатели быша Паисей, папа и патриарх александрский, Макарий, антиохийский патриарх, и со иными митрополиты и архиепископы, и епископы, и с рускими властью. И егда позван я на собор, и ты, великий государь, подходя ко мне, говорил: "Мы, де, тебя позвали на честь, а ты, де, шумишь". И я тебе, великому государю, говорил, чтобы ты, великий государь, мою грамоту на соборе том не велел чести, а переговорил бы ты, великий государь, наедине, и я бы всё сделал по твоей, великого государя, воле. И ты, государь, так не изволил, и я поневоле против своих писаных слов говорил тебе, государю, прекословно и досадно, и в том прощения же прошу».

Формулировки проблем:

1) Вид исторического источника - государственный акт.

умер (3), ему недолго наследовал его сын (10 - имя), который тоже вскоре погиб. Началась целая череда самозванничества. Первый из самозванцев даже сумел стать новым царём, но погиб в результате восстания недовольного населения. Новый самозванец так и не смог захватить Москву, а его армия устроила лагерь в (11 - населённый пункт) пока окончательно не была разбита».

Вставка

| Варианты для пропусков 1, 5, 9 | Варианты для пропусков 2, 3, 7, 10 | Варианты для пропусков 4, 6 | Варианты для пропусков 8, 11 |
|--------------------------------|------------------------------------|-----------------------------|------------------------------|
| 1581 | Борис Годунов | Заповедные лета | Коломна |
| 1591 | Василий Шуйский | Урочные лета | Тушино |
| 1598 | Хлопок Косолап | Юрьев день | Новгород-Северский |
| 1603 | Фёдор Иоаннович | крестоцеловальная запись | Москва |
| 1605 | Иван Болотников | Земский собор | Чернигов |
| 1606 | Фёдор Борисович | пожилое | Смоленск |

Ответ:

05 1) 1606; 2) Фёдор Иоаннович; 3) Борис Годунов; 4) Юрьев день; 5) 1581
 По 1 баллу за каждый верный выбор. Максимум за задание - 11 баллов.
 6) Заповедные лета; 7) Иван Болотников; 8) Чернигов; 9) 1606;
 10) Фёдор Борисович; 11) Смоленск
 Рассмотрите представленные фотографии. Выберите те, которые посвящены событиям Великой Отечественной войны.


1



2




3



4




5



6




7



8



9



10

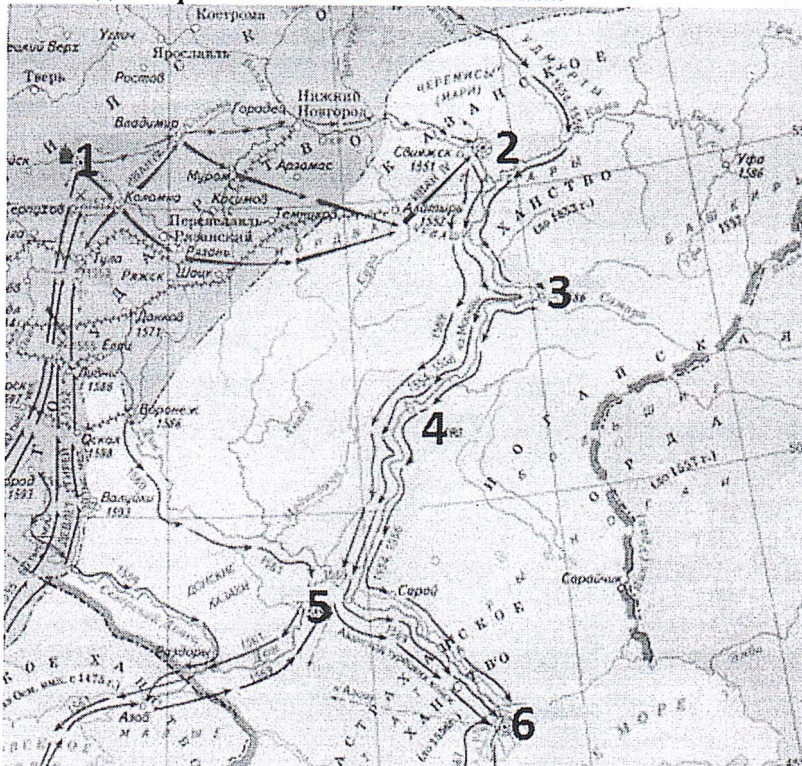


Ответ: 2, 4, 5, 8, 10 156

За каждый правильный ответ - 3 балла. Если выбрано больше 7 утверждений, то 0 баллов. За каждый неверный выбор штраф - 1 балл. Максимум за задание - 15 баллов.

10. Работа с картой

За каждый правильный ответ по 3 балла.



- 2) Приведённый фрагмент источника является отрывком из летописи.
- 3) Источник, фрагмент которого приведён, представляет собой личные записки очевидца событий.
- 4) Приведённый источник является фрагментом из переписки.
- 5) Автор источника, фрагмент которого приведён, с одной стороны, извиняется перед государем, к которому обращается, с другой - указывает государю на неправильность отдельных его действий.
- 6) В источнике говорится, что он был составлен совместно с высшим духовным учреждением Российской империи.
- 7) Автором приведённого источника является Пётр I.
- 8) В источнике упоминаются события, произошедшие после подписания Ништадского мирного договора.
- 9) Автор даёт негативную характеристику правителю, обвиняя его в слабости и трусости
- 10) В тексте упоминаются обстоятельства одного из крупнейших сражений Северной войны.
- 11) Автор источника находится в ссоре с правителем, к которому обращается.
- 12) Шведский король, о котором идёт речь в тексте, - Карл XII.
- 13)

Ответ:

| А | | | Б | | | В | | |
|---|---|---|----|----|---|---|----|---|
| 2 | 9 | 8 | 12 | 10 | 3 | 7 | 11 | 5 |

По 3 балла за каждую верную пару. За каждую неверную пару штраф 2 балла. Максимум за задание - 27 баллов.

-25 -25 30 30 30 30 -25 30 30

7 класс

Максимальное время: 90 минут
Максимальный балл: 100 баллов

В данной части необходимо ответить на вопросы
Выберите несколько правильных ответов и обведите его кружком.
Каждый правильный ответ оценивается в 1 балл.

1. Кто из указанных деятелей культуры и науки жил в эпоху Возрождения?

- 1. Джордано Бруно
- 2. Леонардо да Винчи
- 3. Исаак Ньютон
- 4. Галилео Галилей
- 5. Эрнест Резерфорд
- 6. Ян Матейко

35

2. Какие из указанных терминов связаны с церковным зодчеством?

- 1. финифть
- 2. аркатура
- 3. барабан
- 4. батик
- 5. закомары
- 6. парсуна

35

3. Выберите события всемирной истории, которые произошли в той же половине века, что и описанное в тексте событие.

«То же зимы Шемяка да Можайской поймали князя великого да и ослепили и послали его на Углечо и съ княгынею его. А дети его бегоша в Муром. А на весну послал князь Дмитриеи по них Иону, владыку Рязанского. Иона же шед, взят ихъ ис пелены у Пречистые на своей патрахили, и приде с ними ко князю Дмитрию в Переславль. Он же посла их къ князю на Углечь с тем же Ионою».

- 1. Грюнвальдская битва
- 2. Аугсбургский религиозный мир
- 3. Начало династии Тюдоров
- 4. Начало Столетней войны
- 5. Гуситские войны
- 6. Казнь Жанны д'Арк

35

За каждый правильный ответ – 1 балл. Если выбрано больше 4 утверждений, то 0 баллов. За каждый неверный выбор штраф – 1 балл. Максимум за задание – 3 балла.

4. Выберите три правильных ответа, из предложенных Вам, и обведите их кружком.

Каждый правильный ответ оценивается в 3 балла.

4. Укажите названия должностных лиц Новгородской земли в XII-XV вв.

- а) Посадник
- б) Кормленщик
- в) Тысяцкий
- г) Архимандрит
- д) Митрополит
- е) Окольничий

15

15

15

13.

- А) Поход Лжедмитрия II на Москву
- Б) Деулинское перемирие
- В) Создание Первого ополчения
- Г) Вступление поляков в Москву, призвание королевича Владислава
- Д) Восстание Ивана Болотникова

Д В Г В Б

35

14.

- А) крещение князя Владимира I
- Б) призвание Рюрика на княжение в Новгород
- В) строительство Софийского собора в Киеве
- Г) походы князя Олега на Константинополь
- Д) Куликовская битва

Б Г А Д В

45

Установите соответствие между рядами данных и запишите ответ в виде последовательности цифр и букв (например, 1а 2б 3в 4г). Каждый полный правильный ответ оценивается в 4 балла, при выполнении 50 % задания дается 2 балла

15. Установите соответствие между понятиями и определениями.

| Понятие | Определение |
|---------------|--|
| 1. стрелец | А. категория зависимого населения на Руси |
| 2. баскак | Б. придворный чин в XIII-XVII вв. |
| 3. закуп | В. военный служащий особого постоянного войска |
| 4. окольничий | Г. титул в христианской церкви |
| 5. митрополит | Д. сборщик налогов от монгольского хана |

15 15 15 15 15
3А 1В 2Д 5Г 4Б

16. Установите соответствие между наукой и определением:

| Наука | Определение |
|----------------|--|
| 1. Топонимика | А. Наука о географических названиях |
| 2. Геральдика | Б. Наука о печатях |
| 3. Сфрагистика | В. Наука о происхождении родственных связей отдельных людей и целых семейств |
| 4. Генеалогия | Г. Наука о гербах |
| 5. Нумизматика | Д. Наука о монетах и чеканке монет |

15 15 05 05 15
4В 2Г 1А 3Б 5Д

Работа с текстом

17. Внимательно прочтите отрывок. Заполните пропуски в тексте. Пропущенные слова впишите под номерами в конце текста.

- 1) Россия победила в этой войне,
 - 2) во время войны правительство сняло ограничения на право перехода крестьян к другому хозяину,
 - 3) противником России в войне была Швеция,
 - 4) во время войны образовалось новое государство Речь Посполитая,
 - 5) в ходе войны произошло ужесточение внутренней политики,
 - 6) война проходила в завершающий период образования единого Русского государства.
- 1) 6) 2) _____ *35*

19. Ответьте на вопросы по тексту. За каждый правильный ответ 2 балла.

«...и вот князь великий Дмитрий Иванович и брат его, князь Владимир Андреевич, помолившись богу и пречистой его матери, укрепив ум свой силой, закалив сердца свои мужеством, преисполнившись ратного духа, урядили свои храбрые полки в Русской земле...

О жаворонок, летняя птица, радостных дней утеха, взлети к синим небесам, взгляни на могучий город Москву, воспой славу великому князю Дмитрию Ивановичу и брату его, князю Владимиру Андреевичу! ... Звенит слава по всей земле Русской: в Москве кони ржут, трубы трубят в Коломне, бубны бьют в Серпухове, стоят знамена русские у Дона великого на берегу.

Звонят колокола вечерные в Великом Новгороде, собрались мужи новгородские у храма святой Софии и говорят так: “Неужто нам, братья, не поспеть на подмогу к великому князю Дмитрию Ивановичу?”...

И сказал... князь великий Дмитрий Иванович: “Брат Владимир Андреевич! Два брата мы с тобой, а внуки мы великого князя Владимира Киевского. Воеводы у нас уже поставлены — семьдесят бояр, и отважны князья... а воинов с нами — триста тысяч латников. А воеводы у нас надежные, а дружина в боях испытанная... и все как один готовы головы свои положить за землю за Русскую и за веру христианскую».

- 1) Какое историческое событие описано в документе?

Куликовская битва

20

- 2) В каком году оно произошло?

1380 г.

20

- 3) Как называется этот документ?

Русская грамота

05

- 4) Какое прозвище получил князь, который был инициатором этого события?

Дмитрий Донской

20

5. Какие события и явления связаны с периодом правления Ивана III.

- а) Набег хана Тохтамыша на Москву
- б) Присоединение Твери к Москве
- в) Созыв первого Земского собора
- г) Ликвидация ордынского владычества
- д) Судебник 1497 г.
- е) Ливонская война

15

15

15

6. Что из перечисленного характеризует социально-экономический строй Новгородской вечевой республики?

- а) высокий уровень развития ремесла
- б) широкая продажа за пределы Новгородской земли зерна
- в) партнерские отношения с европейским союзом городов
- г) наличие крупной земельной собственности
- д) социальное равенство жителей республики
- е) отсутствие промыслов

15

15

15

Определите по какому принципу построены логические ряды.

Кратко сформулируйте ответ.

Правильный ответ оценивается в 3 балла

7. Разгром Хазарского каганата, война с Болгарией, война с Византией у Доростола

Войны были с целью захвата территорий, а не защиты.

8. Марфа Борецкая, Анастасия, вдова боярина Ивана Григорьевича, и Евфимия, вдова посадника Есипа Андреевича Горшкова

Женщины, которые сыграли очень важную роль в Русском государстве

9. Нева, Ладожское озеро, Волхов, Ловать, Днепр

Реки на которых проходили войны

0,5

0,5

Что или кто является лишним в ряду

(лишнее слово подчеркните и кратко объясните свой выбор)

Правильный ответ оценивается в 5 баллов

10. Марфа Борецкая, Анастасия, вдова боярина Ивана Григорьевича, и Евфимия, вдова посадника Есипа Андреевича Горшкова

Марфа Борецкая не была вдовой. Марфа Борецкая была вдовой Ивана III

5,5

11. Ермак Тимофеевич, Иван Кольцо, Дмитрий Шемяка, Матвей Мещеряк

Иван Кольцо был правителем какой-либо территории, а остальные не были

0,5

12. Тишайший, Темный, Великий, Святой, Безземельный

Безземельный
такого правителя не было у князей.

Расставьте события в хронологической последовательности.

Ответ запишите в виде последовательности букв (например, АБВГД)

Правильный ответ оценивается в 5 баллов

5,5

Каждый правильный ответ оценивается в 1 балл

При _____ (1) _____, который впервые стал именоваться великим князем «всея Руси», в Кремле развернулось активное каменное строительство. По его указу в Москву были приглашены не только русские мастера, но и зодчие из _____ (2) _____. Одним из них был архитектор _____ (3) _____, по проекту которого в 1475-1479 гг. был построен новый _____ (4) _____. Затем, уже при Василии I, архитектор _____ (5) _____ представил проект собора Архангела Михаила (Архангельский Собор).

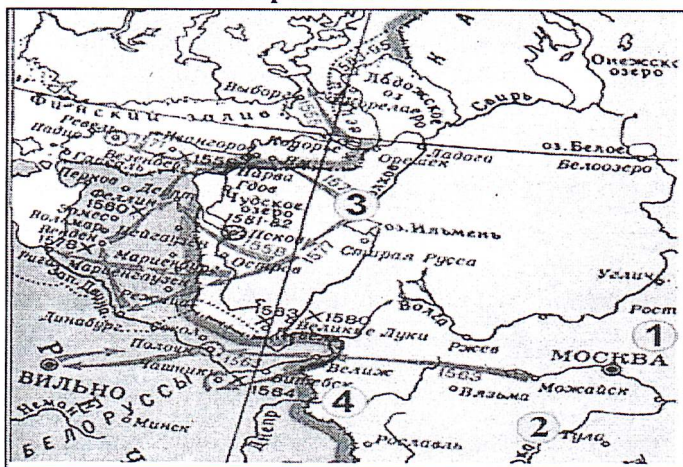
В 1485-1495 гг. опять же иностранными мастерами были возведены новые, зубчатые стены и башни Кремля. А в 1505-1508 гг. была построена, а затем надстроена в 1600 г., колокольня _____ (6) _____. В XVII в. она была самым высоким сооружением Москвы (высота ее составляла 81 метр). Колокольня использовалась также как дозорная вышка, радиус обзора с которой был около 25 километров. С постройкой колокольни завершилось создание ансамбля _____ (7) _____ площади. Окруженная плотно стоящими зданиями, эта площадь стала местом проведения важнейших церемоний и обрядов.

Официальной резиденцией российских царей Кремль стал в _____ (8) _____ г., когда великий князь московский _____ (9) _____ принял титул царя. Коронация его проходила в _____ (10) _____ соборе.

1. Иван III 15
2. других стран. 05
3. —
4. Сорбский собор
5. —
6. Сорбского собора 05
7. Красной площади, Московской 05
8. В 1600 г. 05
9. Иван Грозный 15
10. Сорбский собор 05

18. Работа с картой

За каждый правильный ответ по 3 балла.



1. События какой войны отражены на карте? Укажите ее хронологические рамки.
Восстание землевладельцев 05
2. Напишите название города, в который был совершён карательный поход правительственных войск, сопровождавшийся массовыми убийствами.
Жулия Ушица 05
3. Напишите цифру, которая обозначает «неофициальную столицу» государства после отъезда царя из Москвы.
2 05
4. Какие суждения, относящиеся к событиям, обозначенным на схеме, являются верными? Выберите три суждения из шести предложенных. Запишите в ответ цифры, под которыми они указаны.

8 класс

Максимальное время: 90 минут

Максимальный балл: 100 баллов

1. Укажите год смены князей на Киевском княжении, пропущенный в приведённом ряду.
882, 912, ..., 964.

- 944
- 945
- 941
- 947

Максимум за задание – 0,5 балла.

45

2. Ниже приведён список земель в порядке их присоединения к Москве. Выберите название земли, пропущенное в данном ряду.

Тверь, Псков, .., Рязань.

- Новгород
- Ярославль
- Суздаль
- Смоленск

Максимум за задание – 0,5 балла

05

3. Ниже приведены термины. Выберите те, которые относятся к социальному устройству Древнерусского государства.

- Закуп
- Баскак
- Огнищанин
- Тиун
- Мещанин
- Помещик

- 15

25

- 15

За каждый правильный ответ - 2 балла. Если выбрано больше 4 утверждений, то 0 баллов. За каждый неверный выбор штраф - 1 балл. Максимум за задание - 6 баллов.

4. Расставьте события в хронологической последовательности.

Ответ запишите в виде последовательности букв (например, АБВГД)

Правильный ответ оценивается в 5 баллов

- А) Создание Московского университета
- Б) Открытие Высших женских курсов
- В) Открытие Славяно-Греко-Латинской академии
- Г) Создание Академии наук
- Д) Открытие первых навигацкой и артиллерийской школ

2 1 2 А Б В

25

5.

- А) Азовские походы
- Б) Смоленская война

умер (3), ему недолго наследовал его сын (10 - имя), который тоже вскоре погиб. Началась целая череда самозванчества. Первый из самозванцев даже сумел стать новым царём, но погиб в результате восстания недовольного населения. Новый самозванец так и не смог захватить Москву, а его армия устроила лагерь в (11 - населённый пункт) пока окончательно не была разбита».

Вставка

| Варианты для пропусков 1, 5, 9 | Варианты для пропусков 2, 3, 7, 10 | Варианты для пропусков 4, 6 | Варианты для пропусков 8, 11 |
|-----------------------------------|---------------------------------------|--------------------------------|---------------------------------|
| 1581 | Борис Годунов | Заповедные лета | Коломна |
| 1591 | Василий Шуйский | Урочные лета | Тушино |
| 1598 | Хлопок Косолап | Юрьев день | Новгород-Северский |
| 1603 | Фёдор Иоаннович | крестоцеловальная запись | Москва |
| 1605 | Иван Болотников | Земский собор | Чернигов |
| 1606 <i>05</i> | Фёдор Борисович <i>05</i> | пожилое <i>10</i> | Смоленск <i>05</i> |

Ответ: 1-1605, 2-Федр Борисович, 3-Борис Годунов, 4-Юрьев день, 5-1591, 6-Урочные лета, 7-Василий Шуйский, 8-Коломна, 9-1606, 10-Федор Иоаннович, 11-Смоленск *10* Иван Болотников *05* *05* *05* *05* *10*

По 1 баллу за каждый верный выбор. Максимум за задание - 11 баллов.

05

9.

Рассмотрите представленные фотографии. Выберите те, которые посвящены событиям Великой Отечественной войны.

1



2




3



4



5



6



- 2) Приведённый фрагмент источника является отрывком из летописи.
- 3) Источник, фрагмент которого приведён, представляет собой личные записки очевидца событий.
- 4) Приведённый источник является фрагментом из переписки.
- 5) Автор источника, фрагмент которого приведён, с одной стороны, извиняется перед государем, к которому обращается, с другой - указывает государю на неправильность отдельных его действий.
- 6) В источнике говорится, что он был составлен совместно с высшим духовным учреждением Российской империи.
- 7) Автором приведённого источника является Пётр I.
- 8) В источнике упоминаются события, произошедшие после подписания Ништадского мирного договора.
- 9) Автор даёт негативную характеристику правителю, обвиняя его в слабости и трусости
- 10) В тексте упоминаются обстоятельства одного из крупнейших сражений Северной войны.
- 11) Автор источника находится в ссоре с правителем, к которому обращается.
- 12) Шведский король, о котором идёт речь в тексте, - Карл XII.
- 13)

Ответ:

| 35 А | | | 35 Б | | | 35 В | | | 35 |
|------|---|---|------|---|----|------|---|----|----|
| 8 | 5 | 7 | 3 | 9 | 12 | 4 | 6 | 11 | |

По 3 балла за каждую верную пару. За каждую неверную пару штраф 2 балла. Максимум за задание - 27 баллов.

В) Указ об урочных летах

Г) Ништадтский мир

Д) Церковный раскол

ВГБДА

25

Правильный ответ оценивается в 5 баллов

6.

Установите соответствие между рядами данных и запишите ответ в виде последовательности цифр и букв (например, 1а 2б 3в 4г 5д)

Каждый полный правильный ответ оценивается в 5 баллов, при выполнении 50 % задания дается 2 балла

| Звание | Личность |
|------------------------|----------------------|
| 1. Генерал-фельдмаршал | А. А.В. Суворов |
| 2. Гетман | Б. Ф.Ф. Ушаков |
| 3. Генералиссимус | В. Б. М. Хмельницкий |
| 4. Адмирал | Г. Ермак Тимофеевич |
| 5. Атаман | Д. П. А. Румянцев |

05 05 05 05 05
1а 2а 3б 4г 5в

7.

| Наука | Определение |
|----------------|--|
| 1. Топонимика | А. Наука о географических названиях |
| 2. Геральдика | Б. Наука о печатях |
| 3. Сфрагистика | В. Наука о происхождении родственных связей отдельных людей и целых семейств |
| 4. Генеалогия | Г. Наука о гербах |
| 5. Нумизматика | Д. Наука о монетах и чеканке монет |

05 05 05 15 05
1а 2а 3в 4б 5д

Правильный ответ оценивается в 5 баллов


8. Работа с текстом

Определите пропущенные в тексте названия, термины, имена, даты, обозначенные порядковыми номерами. При необходимости при порядковых номерах даются пояснения о характере требуемой вставки.

«В (1) году скончался (2 - имя царя) последний правитель из династии Рюриковичей. Земским собором был избран брат жены царя - (3 - имя царя).

Правление нового царя было непростым. Уже в первые годы его правления в стране разразился Великий голод, из-за которого даже пришлось временно восстановить (4 - термин) - крестьянам вернули возможность переходить от одного землевладельца к другому, которой они были лишены ещё в (5) году. Вскоре (4) был вновь отменён и восстановлены, и даже увеличены, (6 - термин). Всё это вызывало недовольство населения, в первую очередь крестьянства, вылившееся в восстание под предводительством (7 - имя). Восстание охватывало всё более обширные районы, но в итоге было подавлено посланными из (8 - населённый пункт) войсками, несмотря на то, что в ходе борьбы восставшим удалось убить царского воеводу. Вместе с тем по стране не прекращались слухи, что род Рюриковичей не прервался. В (9) году


7



8



9



10

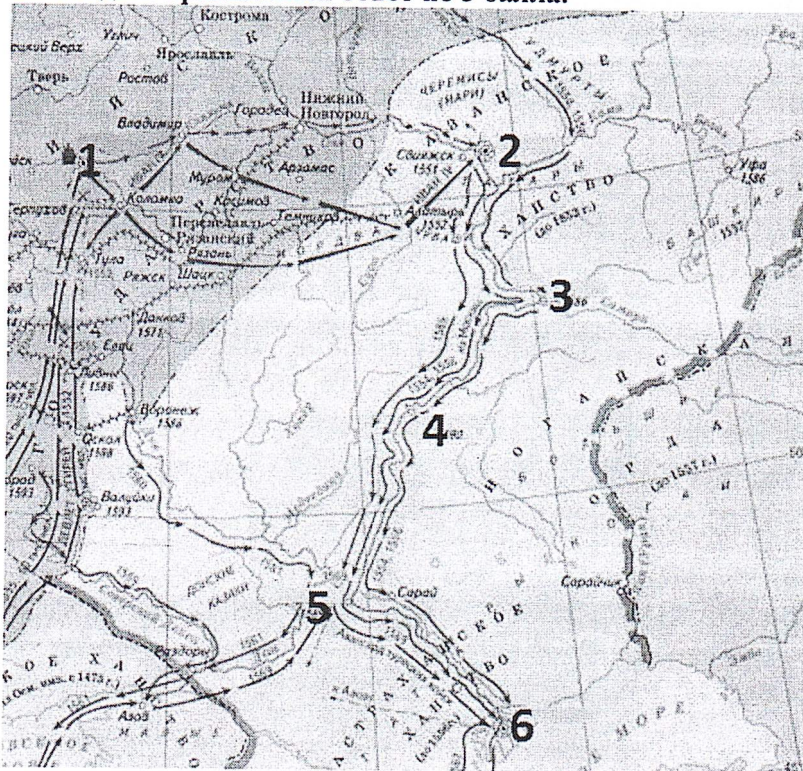


Ответ: 1 2 4 5 8 10

За каждый правильный ответ - 3 балла. Если выбрано больше 7 утверждений, то 0 баллов. За каждый неверный выбор штраф - 1 балл. Максимум за задание - 15 баллов.

10. Работа с картой

За каждый правильный ответ по 3 балла.



1. Напишите имя царя, при котором осуществлялись походы изображенные на карте.

Пётр I

2. Запишите названия городов, обозначенных на карте цифрами от 1 до 6.

1- Москва, 2- Казань, 3- Новгород, 4- Смоленск, 5- Чернигов, 6- Астрахань

3. Подпишите название реки, на берегах которой расположено большинство перечисленных поселений.

Волга

4. Назовите племена, которые добровольно перешли в русское подданство после присоединения Казани.

ИТОГО: 20 баллов

11.

Установите соответствие между фрагментами исторических источников и их краткими характеристиками: к каждому фрагменту, обозначенному буквой, подберите по **три** соответствующие характеристики.

Обратите внимание на то, что среди приведённых характеристик есть «лишние».

Фрагменты источников:

А. «В 20 день сего Октября, по совету в Сенате обще с Синодом, намерение восприято, Его Величество, в показание своего должного благодарения за высокую Его милость и Отеческое попечение и старание, которое Он о благополучии Государства во всё время Своего славнейшего Государствования, и особливо во время прошедшей Шведской войны явить изволил, и Всероссийское Государство в такое сильное и доброе состояние, и народ Свой подданной в такую славу у всего света чрез единое токмо Своё руководство привёл, как то всем довольно известно, именем всего народа Российского просить, дабы изволил принять, по примеру других, от них титул: Отца Отечества, Императора Всероссийского».

Б. «Шведский король вышел из Саксонии со всеми своими полками. Он оставил в Польше для поддержания Станислава, им коронованного, 20 000 войска (в том числе 9000 новоприбывшего из Швеции) под начальством генерала графа Крассау; а сам пошёл к Днепру, переправился через него, несмотря на все препятствия, и приблизился к самой Полтаве, где его царское величество остановился и укреплялся, предав огню и разорению собственную землю, дабы отнять у неприятеля способы к пропитанию.

Вся Европа видела конец несчастного похода и падение короля, дотоле непобедимого. Войско его было уничтожено или захвачено в плен. Его совет, чиновники, за ним последовавшие, имели ту же участь; сам король, дабы не попасться в руки своим врагам, пробился с тремястами конных в турецкую землю, за Днестр, в соседство буджацких татар и искал убежища в Бендерах».

В. «Да ты же, великий государь, собрал собор, в них же председатели быша Паисей, папа и патриарх александрский, Макарий, антиохийский патриарх, и со иными митрополиты и архиепископы, и епископы, и с рускими властями. И егда позван я на собор, и ты, великий государь, подходя ко мне, говорил: "Мы, де, тебя позвали на честь, а ты, де, шумишь". И я тебе, великому государю, говорил, чтобы ты, великий государь, мою грамоту на соборе том не велел чести, а переговорил бы ты, великий государь, наедине, и я бы всё сделал по твоей, великого государя, воле. И ты, государь, так не изволил, и я поневоле против своих писаных слов говорил тебе, государю, прекословно и досадно, и в том прощения же прошу».

Формулировки проблем:

1) Вид исторического источника - государственный акт.